
基本情報技術 I

4. 確率と統計

菊池浩明

講義目標

■ 教科書

□ 1-3 応用数学

- » 1. 確率
- » 2. 確率分布
- » 3. 回帰直線

宿題

- 1章練習問題

- 11 (期待値)
- 12 (正規分布)
- 15 (赤玉)
- 17 (最短経路)

1. 確率

■ 組み合わせ

□ n 個の要素から r 個の要素を取り出す場合の数.

$${}_n C_r = {}_n P_r / r! = \binom{n}{r} = \frac{n!}{(n-r)!r!}$$

□ 例) 8人から3人を選ぶ組み合わせの数

$$\binom{8}{3} =$$

積事象

■ 独立事象

- 事象Aと事象Bが独立に生じる.
- 例) 2個のさいころ共に偶数となる確率.
 $P(A \cap B) = P(A)P(B) = 1/4$
A=1個目が偶数, B=2個目が偶数

■ 従属事象

- A(1回目に赤)の生起がB(2回目に赤)の結果に影響を受ける.
- 例) 白3個, 赤5個の壺から2個の玉を取る.
A = 1個目が赤, $P(A) = 5/8$
B = 2個目が赤, $P(B|A) = A$ による条件付き確率 = $4/7$
 $P(A \cap B) = P(2個とも赤) = P(A) P(B|A) =$
 $P(B) = P(B|A)P(A) + P(B|\sim A)P(\sim A) = 4/7 * 5/8 + 5/7 * 3/8 =$

条件付き確率と同時確率

■ 同時確率

	A	$\sim A$	計
B	$\frac{20}{56}$ $P(A \cap B)$	$\frac{15}{56}$	$\frac{5}{8}$ $P(B)$
$\sim B$	$\frac{15}{56}$	$\frac{6}{56}$	$\frac{3}{8}$
計	$\frac{5}{8}$ $P(A)$	$\frac{3}{8}$	1.0

■ 条件付き確率

	A	$\sim A$
B	$\frac{4}{7}$ $P(B A)$	$\frac{5}{7}$ $P(B \sim A)$
$\sim B$	$\frac{3}{7}$ $P(\sim B A)$	$\frac{2}{7}$
計	1.0	1.0

和事象, 余事象

■ 和事象

□ $P(A \cup B) = P(A) + P(B) - P(A \cap B)$

□ 例) 2個のどちらかが赤となる確率

$$P(A \cup B) = 5/8 + 5/8 - 5/14 =$$


■ 余事象

□ 事象Aが起きない事象


□ 例) $C =$ 2個とも白になる事象, $P(C) =$

□ $\bar{C} = A \cup B =$ 少なくともどちらかが赤となる事象,
 $P(\bar{C}) =$

ベイズの定理*




A (30%)



B (60%)

■ 例(ほとんど出題されない?)

A or B?



□ ABのサイコロでE=1の目が出る事象の確率が $P(E|A) = 3/10$, $P(E|B)=3/5$ である時, Eの時Aであった確率 $P(A|E)$ を求めよ.

□ ベイズの定理

$$\begin{aligned} P(A|E) &= P(A \cap E) / P(E) = P(E|A)P(A) / P(E) \\ &= 3/10 * 1/2 / (9/20) = 1/3 \end{aligned}$$

$$P(A)=P(B)=1/2$$

$$\begin{aligned} P(E) &= P(E|A)P(A) + P(E|B)P(B) \\ &= (3/10+3/5)/2 = 9/20 \end{aligned}$$

確率に関する問題例

- (1) 赤, 白, 黄が3個ずつ入った壺がある.
3つ出したらすべて白の確率.
- (2) AとBの文字を n 個ならべて, 60個以上の数を表すには n は何個必要か?
- (3) 0と1を組み合わせてできる長さ1以上7文字以下の文字列の総数.

問題

- 算数と英語のテストで40点を取った。
ヤバイのどちらか？

	60	60
	55	45
	65	75
	70	80
	50	40
	80	90
	40	30
平均	60.00	60.00
	算数	英語

2. 確率分布

■ 統計値

□ 平均 $\bar{x} = \mu = 1/n \sum x_i$

□ 分散 $\sigma^2 = 1/n \sum (x_i - \mu)^2$

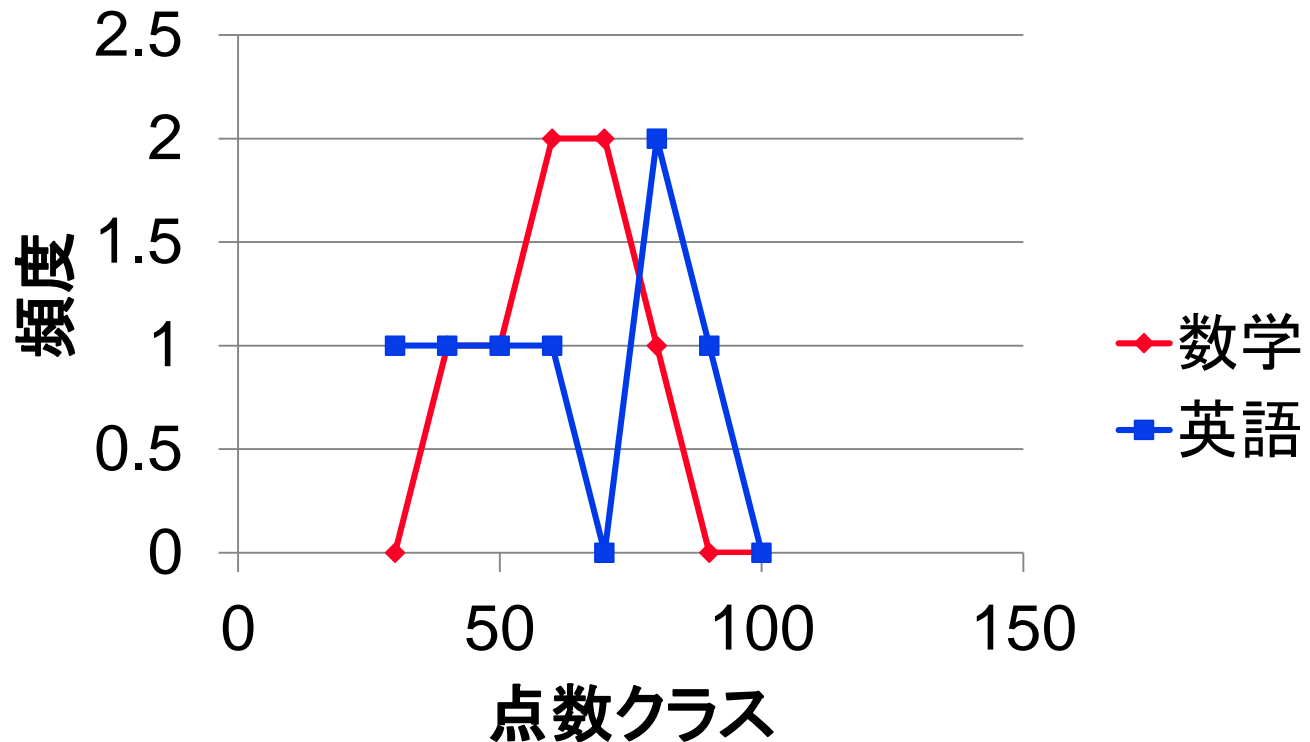
□ **標準偏差** $\sigma = \sqrt{\sigma^2}$

	60	60
	55	45
	65	75
	70	80
	50	40
	80	90
	40	30
平均	60.00	60.00
分散	150	435.7
標準偏差	12.247	20.9

ヒストグラム

■ 度数分布表

□ 確率分布: 確率=頻度/N



正規分布

■ 定義

□ 自然現象によく観られる確率分布 . 密度関数

$$f(x) = \frac{1}{\sqrt{2\pi\sigma^2}} \exp\left(-\frac{(x-\mu)^2}{2\sigma^2}\right)$$

□ 標準正規分布

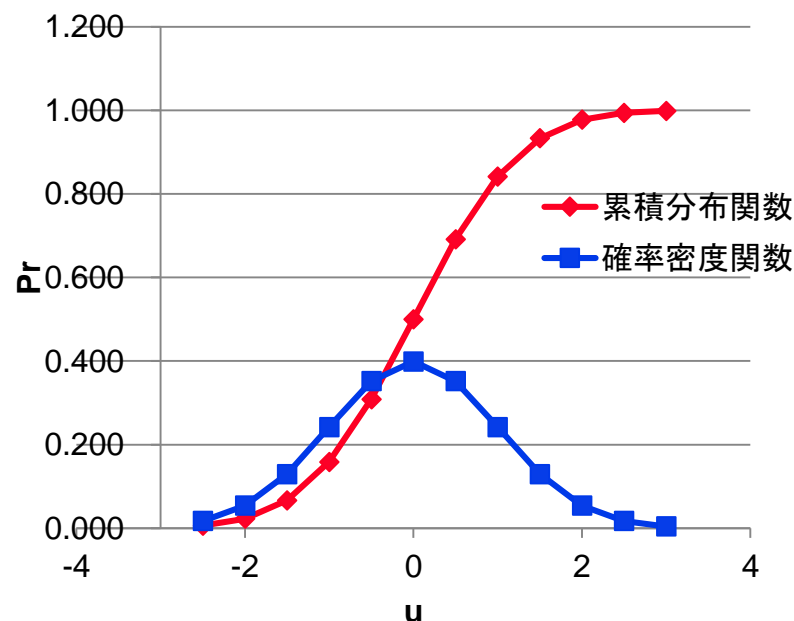
$$\mu=0, \sigma=1$$

$$N(0, 1)$$

□ 累積確率分布関数

$$P(X < t)$$

$$= \int_A f_X(x) dx$$



例題

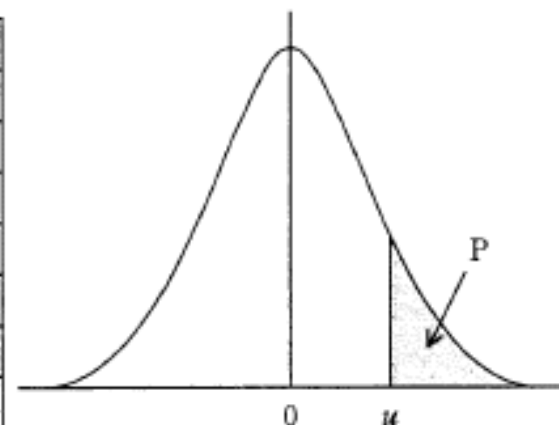
- 平均5.2kg, 標準偏差0.1kgで分布している製品がある. 5.0kg未満が不合格品とする. その割合はいくらか?

□ $u = (x - \mu) / \sigma = (5.0 - 5.2) / 0.1 = -2$ より, $P(2) = 0.023 = 1 - \Pr(U < 2)$. 答 2.3 %

- $X \geq 5.3$ kgとなる製品の割合は?

標準正規分布表

u	P
0.0	0.500
0.5	0.309
1.0	0.159
1.5	0.067
2.0	0.023
2.5	0.006
3.0	0.001



参考) 偏差値*

■ 定義

$$T_i = \frac{10(x_i - \mu_x)}{\sigma_x} + 50$$

□ 例) 算数 $\mu=60$, $\sigma=12.2$, $x=40$ 点の時,
 $T=10(40 - 60)/12.2 = \underline{33.6}$

□ 英語 $T = 10(40-60)/20.9 = \underline{40.4}$

□ (算数の方がヤバい)

- ## ■ FMSの偏差値が60点である. 合格するのは100人中何位までか?

3. 統計

■ 相関係数 (ピアソンの積率相関係数)


□ (x_i, y_i) の組が与えられてるとき

$$r = \frac{\sum_{i=1}^n (x_i - \bar{x})(y_i - \bar{y})}{\sqrt{\sum_{i=1}^n (x_i - \bar{x})^2} \sqrt{\sum_{i=1}^n (y_i - \bar{y})^2}} = \sum (x_i - \mu_x)(y_i - \mu_y) / \sigma_x \sigma_y$$

$y_i = x_i$ の時, $r = \sum (x_i - \mu_x)^2 / \sigma_x^2 = 1$ (最大値)

例) 算数と英語の
点数散布図の時,

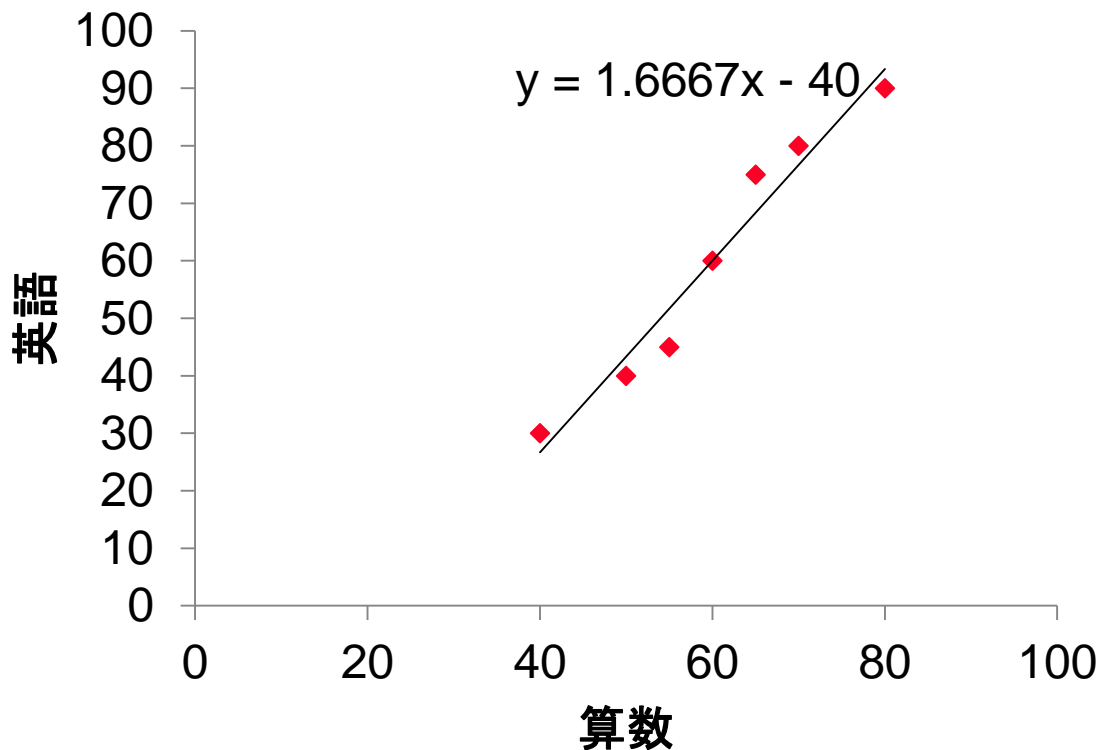
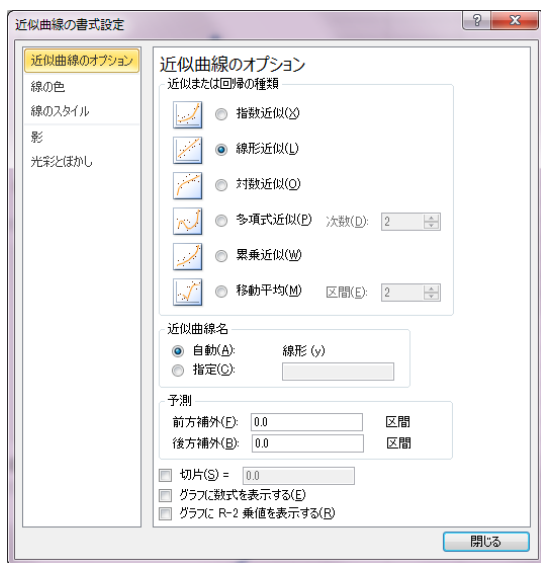
R = 0.977897823



回帰直線

■ 最小二乗法

□ 「近似曲線の追加」



参考) 最小二乗法*

- アルゴリズム

- 入力: $(x_1, y_1), \dots, (x_n, y_n)$

- あてはめ多項式: $f(x) = a + bx$

- 誤差の総和 $S = \sum (f(x_i) - y_i)^2$

- $dS/da = 0$

- $dS/db = 0$ の連立方程式を解く.

まとめ

- 二つのサイコロの様に独立して生じる事象を () , そうでないものを () という. $P(A|B)$ を () による () 確率という.
- 標準正規確率分布とは, 平均が () で () が 1.0 の正規分布である. 標準偏差を二乗すると () になる.
- 相関係数は最大値 () , 最小値 () で二つの分布の相関を表す. 別名 () の積率相関係数という.